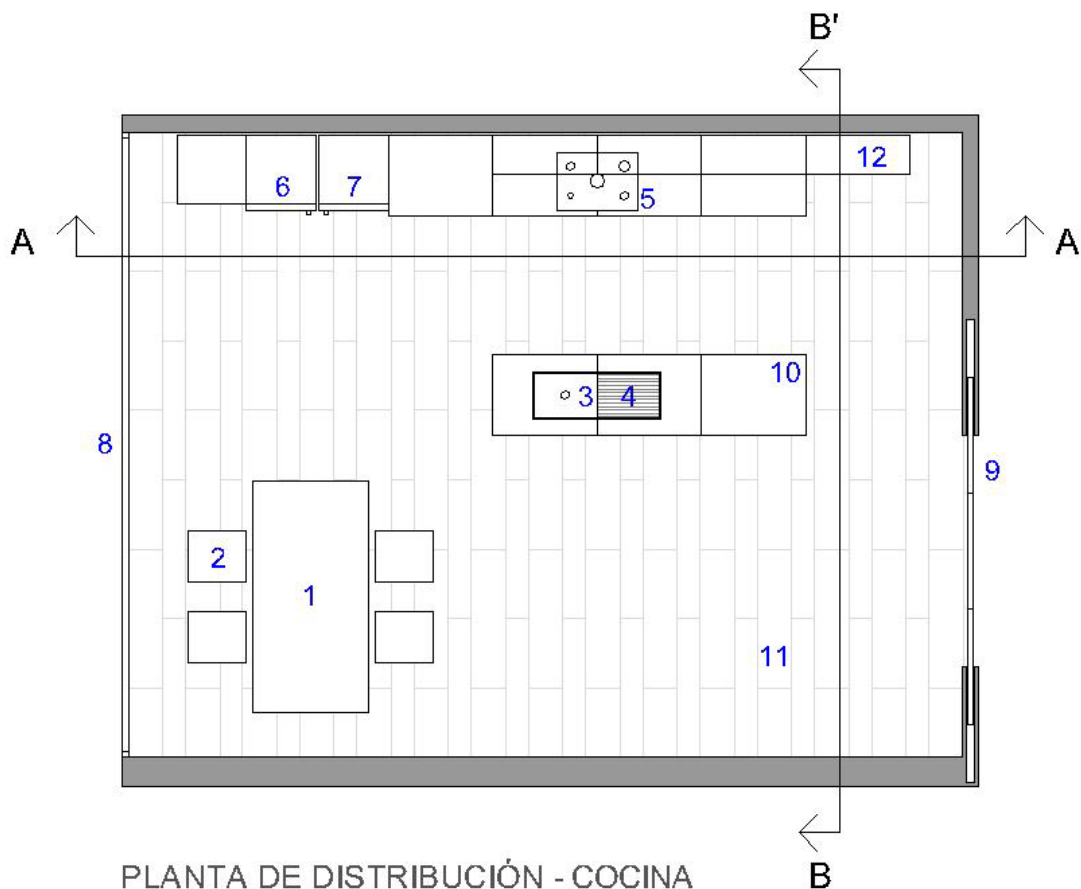


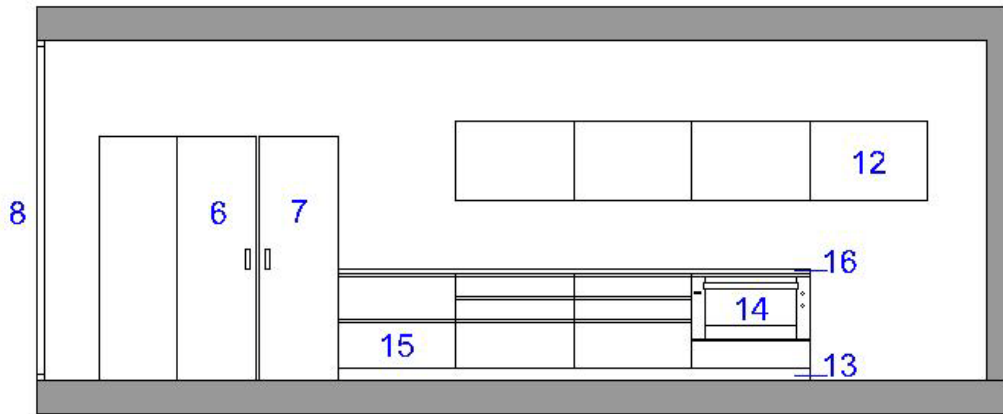


PRUEBA ESPECÍFICA CFGS AMUEBLAMIENTO			
ANÁLISIS DE IMAGEN (EJERCICIO 1)			NOTA
FECHA	23 JUNIO 2016	HORA	09:30 a 10:30
1º APELLIDO		2º APELLIDO	
NOMBRE			
CICLO FORMATIVO ESCOGIDO		AMUEBLAMIENTO	
ULTIMOS ESTUDIOS REALIZADOS (ESO, Bachillerato)			
TELEFONO/S DE CONTACTO			

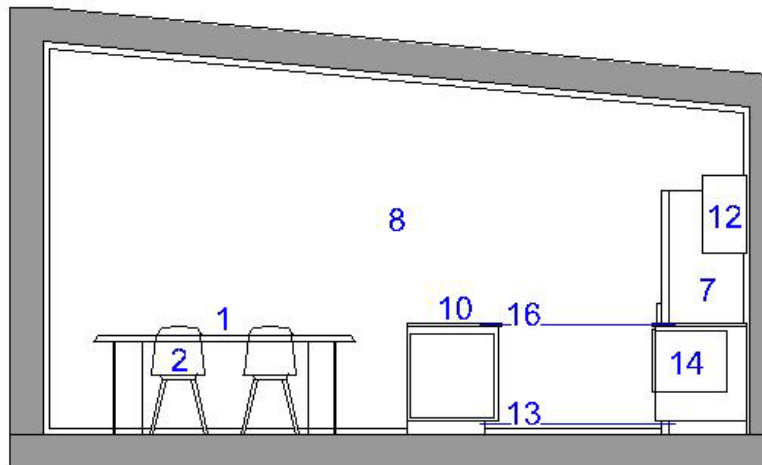
ANALIZA LAS IMÁGENES DADAS.

Dada la planta y las secciones de una cocina, identifica los elementos enumerados (5 PUNTOS) y especifica los materiales con los que pueden estar contruidos (5 PUNTOS).





SECCIÓN A-A'



SECCIÓN B-B'



1.

2.

3.

4.

5.

6.

7.

8.

9.

10.

11.

12.

13.

14.

15.

16.



ER-0785/2009

PRUEBA ESPECÍFICA CFGS AMUEBLAMIENTO			
REPRESENTACIÓN GRÁFICA (EJERCICIO 2)			NOTA
FECHA	23 JUNIO 2016	HORA	10:30 a 12:30
1º APELLIDO		2º APELLIDO	
NOMBRE			
CICLO FORMATIVO ESCOGIDO		AMUEBLAMIENTO	
TELÉFONO/S DE CONTACTO			

### REPRESENTACIÓN GRÁFICA

Diseña una cómoda para un dormitorio. Se valorarán los siguientes apartados:

- Un boceto, valorando los colores, luces, brillos y texturas de su diseño. 3 PUNTOS.
- Un croquis (planta, alzado y perfil), con la acotación y proporciones adecuadas de sus elementos. 3 PUNTOS.
- Una perspectiva, delineada a escala, desde un punto de vista apropiado e indicando los materiales para su fabricación. 4 PUNTOS.